

Код 210802

Задания школьного этапа
Всероссийской олимпиады школьников по технологии
8 класс
Теоретический конкурс

T-18

Подчеркните правильный ответ.

+ 1. Веществами, выполняющими функцию биологических регуляторов жизненных процессов в организме человека, являются

- а) углеводы
- б) белки
- в) жиры
- г) минеральные соли
- д) витамины

Отметьте знаком + правильный ответ

- 2. Для размораживания пищевых продуктов наиболее рационально использовать:

- а) оттаивание при комнатной температуре;
- б) микроволновую печь
- в) духовой шкаф
- г) электрическую плиту

+ 3. Напишите не менее четырех видов теста.

..Сырное, дрожжевое, песочное, слоеное... Бездрожжевое, блинчатое, заварное.

+ 4. Какие бывают супы по способу приготовления?

На квасе, заправочные, супы-пюре, мясоразные, на кефире и т.д.

+ 5. Вставьте пропущенные слова, используя слова для справок.

Сибирские пельмени, итальянские равиоли, украинские вареники, узбекские манты, литовские калдуны, белорусские вареники

Слова для справок: колдуны; вареники; пельмени; манты; ravioli.

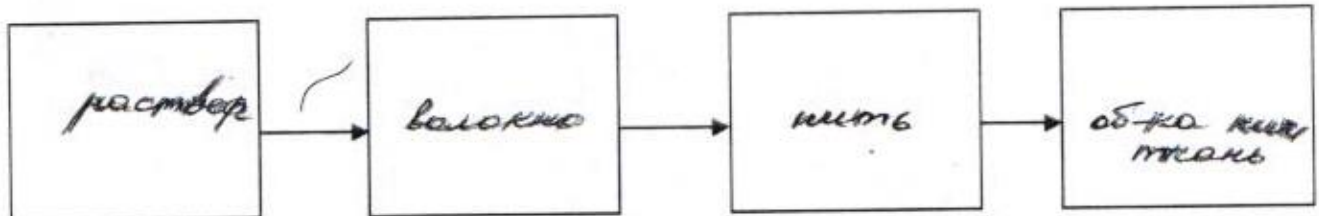
Материаловедение

Отметьте знаком «+» все правильные ответы:

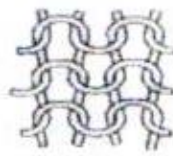

+ 6. К гигиеническим свойствам тканей не относятся:

- а) теплозащитность
- б) прочность
- в) сминаемость
- г) гигроскопичность
- д) усадка

+ 7. Составьте алгоритм получения искусственных волокон:



+ 8. Установите соответствие между материалами, представленными на рисунке и их названиями:



- а. – трикотажное полотно;
- б. – прокладочный материал;
- в. – тканый материал

а - 2 ; б - 3 ; в - 1

Машиноведение

+ Отметьте знаком «+» все правильные ответы.

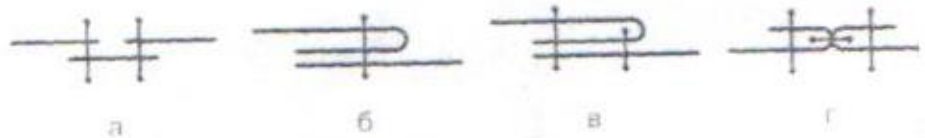
9. В бытовой швейной машине применяются приводы:

- + а) электрический
- б) гидравлический
- в) пневматический
- + г) ручной
- + д) ножной

10. Впишите букву.

Установите соответствие между названием машинного шва и его условным обозначением:

1. накладной б,
2. расстрочной з,
3. шов встык а,
4. настрочной в.



11. Вставьте пропущенные слова, используя слова для справок.
Участки швейной машины, где происходит трение деталей,
необходимо смазывать машинным маслом. Это облегчает вращение механизмов
машины, уменьшает износ деталей, способствует бесшумной работе машины.

Технология обработки швейных изделий

Отметьте знаком + правильный ответ

12. Если прямая юбка будет сшита из ткани полоску, то полоски лучше расположить:

- а) вдоль длины будущей юбки б) поперек длины будущей юбки

13. Укажите цифрами последовательность раскроя изделия:

- 1 а) вырезание деталей; 2 г) фиксирование портновскими булавками;
3 б) выполнение экономной раскладки; 4 д) обмеловка с припуском на швы.
3 в) обводка контуров;

Отметьте знаком + правильный ответ

14. Моделирование – это:

1. творческий процесс создания новых моделей, область декоративно-прикладного искусства
2. изменение чертежа выкройки в соответствии с выбранной моделью

Отметьте знаком + правильный ответ

15. По рисунку определите вид рубашки:

1. понева; 2. косоворотка; 3. зипун

Отметьте знаком + правильный ответ

16. Расширение прямой юбки по линии низа может быть выполнено:

1. увеличением ширины заднего полотнища;
2. увеличением ширины переднего полотнища;
3. закрытием вытачки по линии талии

Отметьте знаком + правильный ответ

17. К основным горизонтальным линиям фигуры относят:

1. линию шеи, середины переда, линию низа; 3. линию шеи, бедер, низа
2. линию талии, груди, середины спинки;

Установите соответствия

18. Укажите названия мерок для данных обозначений:

А	Дн.	1	Полуобхват бедер
Б	Ст.	2	Длина нагрудника
В	Сб	3	Длина нижней части
Г	Днч	4	Полуобхват талии

А - 2.; Б - 4.; В - 1.; Г - 3...

Отметьте знаком + правильные ответы

19. Подготовка ткани к раскрою включает в себя следующие операции

1. выравнивание срезов 5. определение направления долевой нити
2. стирка 6. определение лицевой стороны
3. выявление дефектов 7. декатировка
4. накрахмаливание

Электротехника

Отметьте знаком + правильный ответ:

20. Участок электрической цепи состоит из четырех ламп, соединенных последовательно. При включении напряжения одна лампа перегорела. Сколько ламп останется гореть?

1. три 2. две 3. одна 4. ни одной